

第4回 二項分布, ポアソン分布, 正規分布

A. 代表的な分布

1. 離散分布

① 二項分布

大きさ n の標本で, 事象 E の起こる確率を p とするとき, そのうち x 個に E が起こる確率 $P(x)$ は二項分布に従う.

例 さいころを 10 回振ったときに 1 の出る回数 x の確率分布は二項分布に従う.

この場合, $n = 10, p = \frac{1}{6}$ の二項分布になる

さいころを 10 回振ったときに 1 が 0 回出る ($x = 0$) 確率は, $P(0) = 0.162$ である.

さいころを 10 回振ったときに 1 が 3 回出る ($x = 3$) 確率は, $P(3) = 0.155$ である.

★ 二項分布では母平均 $\mu = np$, 母分散 $\sigma^2 = np(1-p)$ となる.

エクセルでの計算

例 さいころを 10 回振ったときに 1 の出る回数 x の確率分布は二項分布に従う.

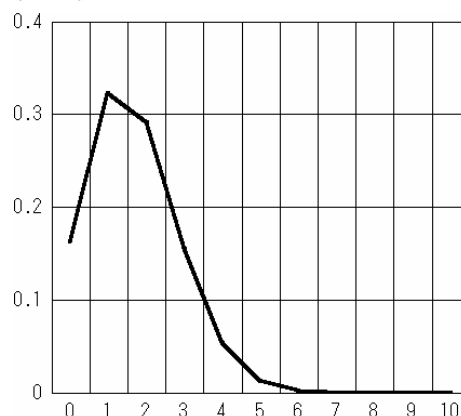
$n = 10, p = \frac{1}{6}$ の二項分布になる

エクセルでは $P(x) = \text{BINOMDIST}(x, n, p, \text{false})$

例をエクセルで計算すると以下の通りになる.

さいころの場合		
1 の出る回	確率	エクセルの二項分布関数
0	0.161506	=BINOMDIST(0,10,1/6,FALSE)
1	0.323011	=BINOMDIST(1,10,1/6,FALSE)
2	0.29071	=BINOMDIST(2,10,1/6,FALSE)
3	0.155045	=BINOMDIST(3,10,1/6,FALSE)
4	0.054266	=BINOMDIST(4,10,1/6,FALSE)
5	0.013024	=BINOMDIST(5,10,1/6,FALSE)
6	0.002171	=BINOMDIST(6,10,1/6,FALSE)
7	0.000248	=BINOMDIST(7,10,1/6,FALSE)
8	1.86E-05	=BINOMDIST(8,10,1/6,FALSE)
9	8.27E-07	=BINOMDIST(9,10,1/6,FALSE)
10	1.65E-08	=BINOMDIST(10,10,1/6,FALSE)

上の結果をグラフで示すと右のようになる.



練習 A社のチョコレートにはくじが入っていて、当たる確率は0.15である。10個買って1つも当たりが入っていない確率、2つだけ当たりの入っている確率を求めよ。さらに下の表を完成させよ。

$n =$, $p =$

当たりの数	エクセルでの計算式	確率
0		
1		
2		
3		
4		
5		
6		
7		
8		
9		
10		

② ポアソン分布

ポアソン分布は一定の長さの時間、一定の大きさの空間においてごくまれに起こる事象を表現するとき用いる。二項分布において p をどんどん小さくする一方で、 n を無限大にすると得られる。非常に大きな集団においてきわめて起こりにくい事象を対象としたときの分布である。

二項分布と違って、分布の大きさ n は必要ない。例えば、交通事故死はきわめてまれなものである。その対象となる n はしかも何人か決めようがない。運転者や歩行者の数は毎日異なるからである。そういうときにポアソン分布は有効である。

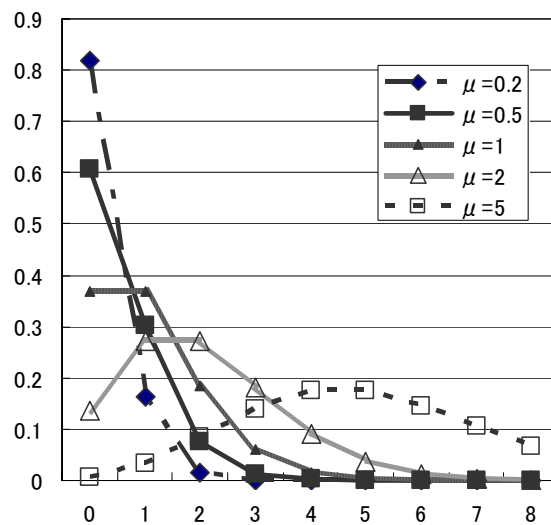
例 ある島では毎年、何千羽ものヒナが生まれる。毎年平均 0.5 羽の出現率で黄金色の羽をもつヒナが生まれるという。 $\mu = 0.5$ であるから、黄金の羽を持つヒナが 0,1,2 羽、出現する確率はそれぞれポアソン分布に従う。(ここでは毎年それぞれ誕生するヒナの数が何千羽であるかを正確にわかっていなくてもよいし、異なっていたとしてもよい。そこが二項分布と違う。)

ポアソン分布の計算には母平均だけが必要である。ここでは母平均 $\mu = 0.5$ である。

エクセルでは、 $P(x) = POISSON(x, \mu, false)$

黄金色の羽をもつヒナの数	確率	エクセルでの式
0	0.606531	=POISSON(0,0.5,FALSE)
1	0.303265	=POISSON(1,0.5,FALSE)
2	0.075816	=POISSON(2,0.5,FALSE)

- ★ ポアソン分布では平均 μ が決まると分布の形が決まる.
- ★ ポアソン分布では, 母平均 μ と母分散 σ^2 は等しい.



練習 A君は1時間, 夜空を見上げると流れ星を平均0.4個みるという. ポアソン分布に従うとすれば, 1時間で流れ星を0, 1, 2個見る確率を計算せよ.

$\mu =$

当たりの数	エクセルでの計算式	確率
0		
1		
2		

2. 連続分布

- ① 一様分布 (矩形分布) すべてが同じ確率で起こる分布

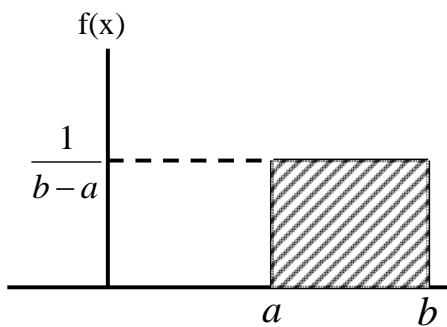


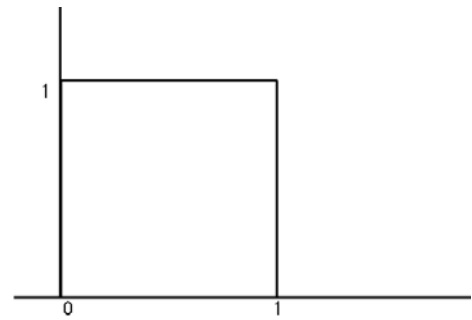
図 一般的な一様分布

右の確率分布において
確率変数が0となる確率は？

確率変数が1となる確率は？

確率変数が0~0.1となる確率は？

確率変数が0~1となる確率は？

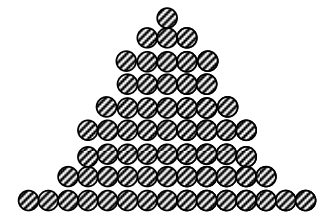
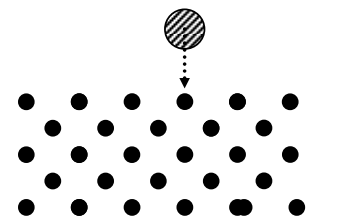


一様分布 (矩形分布) の例

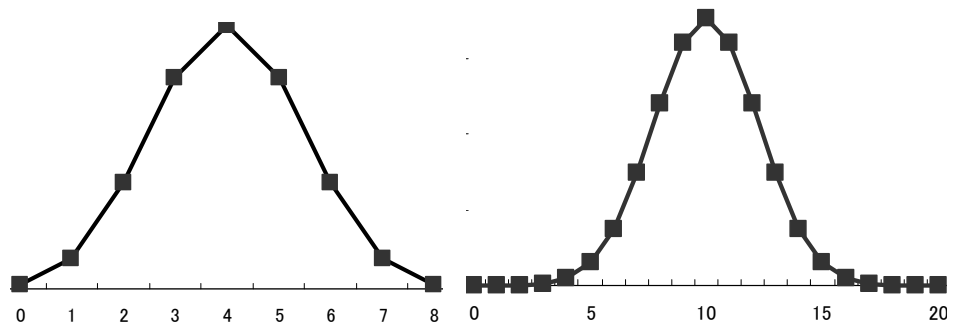
② 正規分布

二項分布で $p = 0.5$ としたときに n を無限大にするとえられる。

たくさんのランダムなことが組み合わせられた場合に $p = 0.5$ の二項分布の極限である正規分布となるとみなすことができる。例えば、概念的には、パチンコ台での球の分布を見ると釘に当たり右と左に行く確率は同じだとすれば、球の分布は図のようになる。これは二項分布に従う (パスカルの三角形: $n = 8$, $p = 0.5$ の場合と $n = 20$, $p = 0.5$ の場合)。



パチンコ台での玉の分布



パスカルの三角形

★ 正規分布に (近似的に) 従う事象はたくさんある。

人の身長分布, 犬の体重, 卵の重さなどの分布は正規分布に近似できる。

B. 正規分布

1. 正規分布の特徴

- ① 母平均 μ と母分散 σ^2 を与えると形が決まる. これを $N(\mu, \sigma^2)$ と書いて表現する.
- ② 平均 μ を中心にして左右対称である. よって, 平均より大きい値あるいは小さい値を取る確率はそれぞれ (,) である.
- ③ 曲線は平均 μ の近傍で高く, 両側に行くにしたがって単調に低くなる.
- ④ 平均 μ は曲線の位置を決める. 平均 μ の異なる2つの曲線は左右に移動させれば重ねることができる (図2).
- ⑤ 標準偏差 σ は曲線の形を決める. σ が大きければ曲線は扁平になる (図3).
- ⑥ (a) $\mu - \sigma$ と $\mu + \sigma$ の間の確率変数を取る確率は約 0.683 である (図4).
 (b) $\mu - 2\sigma$ と $\mu + 2\sigma$ の間の確率変数を取る確率は約 0.954 である.
 (c) $\mu - 3\sigma$ と $\mu + 3\sigma$ の間の確率変数を取る確率は約 0.997 である.
- ⑦ 0.95 (95%) の確率で $\mu - 1.96\sigma$ と $\mu + 1.96\sigma$ の間の確率変数を取る
 0.99 (99%) の確率で $\mu - 2.576\sigma$ と $\mu + 2.576\sigma$ の間の確率変数を取る

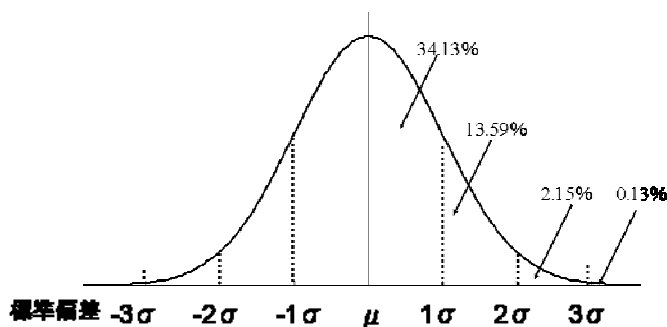


図1 正規分布

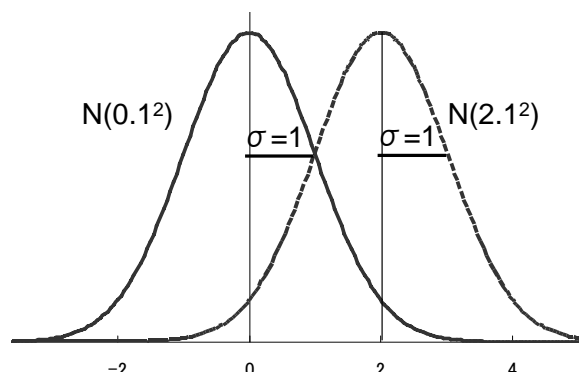


図2 正規分布 $N(\mu, 1^2)$ の確率密度関数

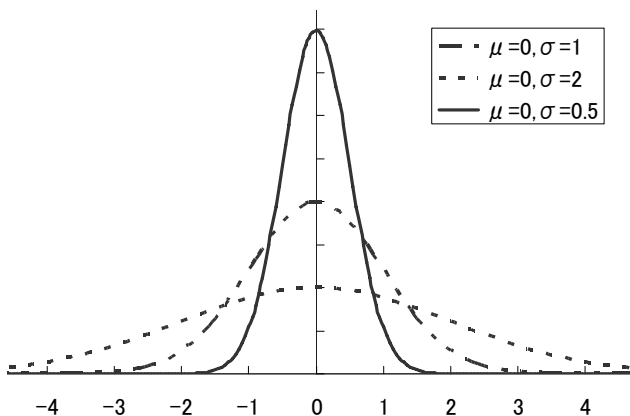


図3 正規分布 $N(0, \sigma^2)$ の確率密度関数

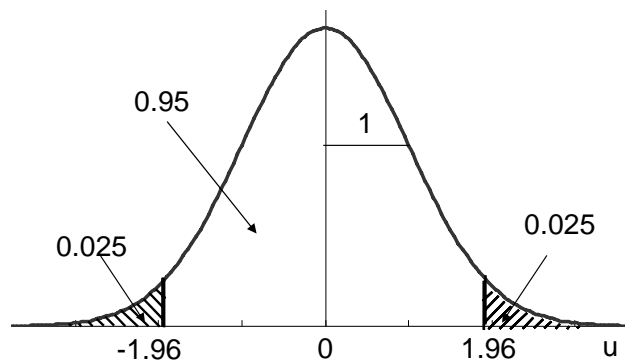
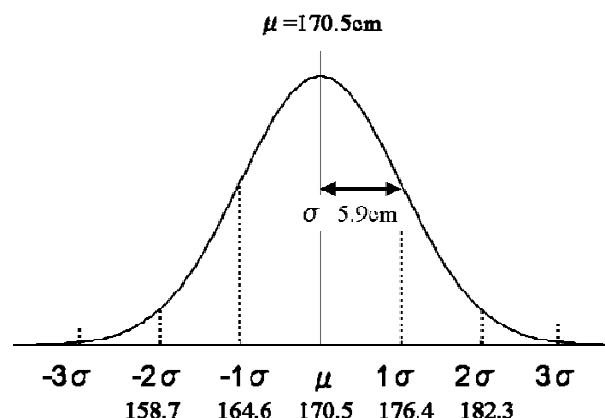


図4 u の分布, $N(0, 1^2)$

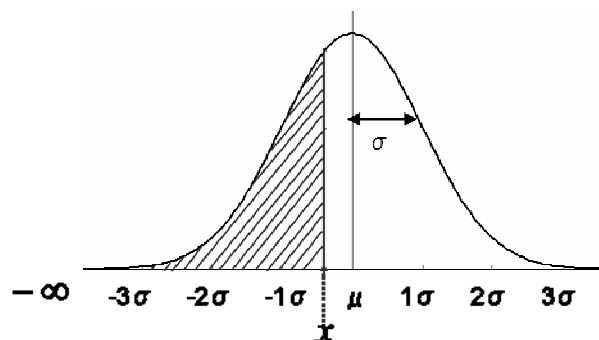
正規分布の例：20～24歳の男性の身長は人間生活工学研究センターの調査（1992-1994）によると平均170.5cm，標準偏差5.9cmであった。身長の分布が正規分布するならば， 2σ 以上平均より背の高い人，すなわち182.3cm以上は全体の2.28%である。平均から標準偏差以内，すなわち164.6～176.4cmに全体の約68%が属する。全体の95%は158.9～182.1cmに属する。



練習：30歳代の男性の身長の平均は169.5cm，標準偏差は5.8cmであった。身長の分布が正規分布するならば，平均から標準偏差以内，すなわち（ ）～（ ）cmに全体の約（ ）%が属する。 2σ 以下平均より背の低い人，すなわち（ ）cm以下は全体の（ ）%である。全体の95%は（ ）～（ ）cmに属する。

2. 正規分布において任意の値と任意の値の間の範囲をとる確率をエクセルから計算する方法
 連続分布であるから，正規分布において任意の値を取る確率は0である。任意の値と任意の値の間の範囲を取る確率を計算するにはエクセルの関数を利用するのが簡単である。

エクセルの正規分布に関する関数はいくつかある。
 今回，利用するのはNORMDIST関数である。
 NORMDIST関数は平均 μ ，標準偏差 σ の正規分布において， $-\infty$ （無限大）から x までの値を取る確率を以下のように入力することで計算する。



$$= \text{NORMDIST}(x, \mu, \sigma, \text{true})$$

例えば，前述の身長に関する正規分布の例（平均170.5cm，標準偏差5.9cm）で，以下164.6cm以下の身長の割合は以下の式で求められる。

<code>=NORMDIST(164.6,170.5,5.9,TRUE)</code>	0.158655
--	----------

練習 20歳代の男性の身長の平均は170.5cm，標準偏差は5.9cmであった。身長の分布が正規分布するならば，160cm以下には全体の約（ ）%が属する。175cm以下には全体の約（ ）%が属する。

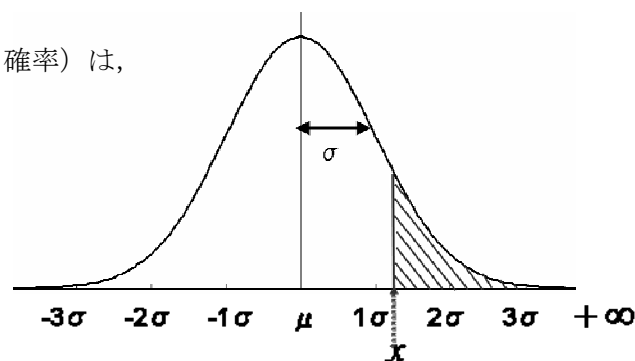
ある値より大きくなる確率を計算するには、正規分布全体の確率は1となることから、下の図のように考えて、1から下の図の斜線部分の確率を引き算すると

= $NORMDIST(x, \mu, \sigma, true)$ であるから、

すなわち、斜線部に属する確率 (xより大きくなる確率) は、

$$= 1 - NORMDIST(x, \mu, \sigma, true)$$

として、計算する。

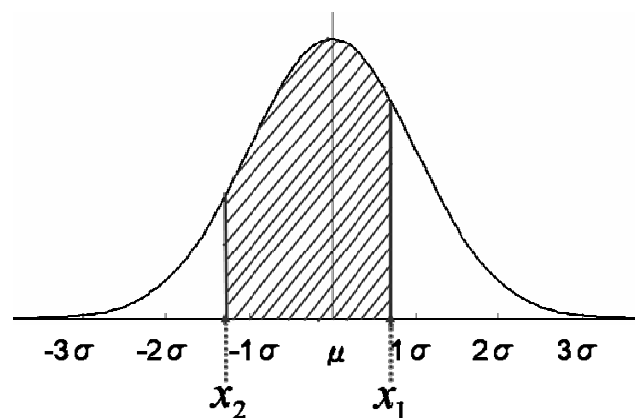


練習 20歳代の男性の身長は平均は170.5cm、標準偏差は5.9cmであった。身長が正規分布するならば、173 cm 以上には全体の約 () %が属する。162 cm 以上には全体の約 () %が属する。

ある値 (x_2) からある値 (x_1) をとる確率を計算するには、 $-\infty$ から x_1 までを取る確率から $-\infty$ から x_2 までを取る確率の差を取る。すなわち下の図のように計算する。エクセルでは

$$= NORMDIST(x_1, \mu, \sigma, true) - NORMDIST(x_2, \mu, \sigma, true)$$

として、計算する。



練習 20歳代の男性の身長は平均は170.5cm、標準偏差は5.9cmであった。身長が正規分布するならば、身長が160~175cmの間にある人は全体の約 () %である。

C. 宿題

1. 第2回の宿題で調べたデータについて①は二項分布、②はポアソン分布で予想される分布とどの程度離れているかを以下の手順で検討せよ。

- ① それぞれ二項分布、ポアソン分布に従っているとして、確率分布を求めよ。なおポアソン分布の計算で用いる母平均 μ は調査したデータの平均を用いたらよい。
- ② ①で求めた確率分布のヒストグラムの上に、第2回の宿題で調べたデータから作ったヒストグラムをトレーシングペーパーなどで書き写したものを、縦軸、横軸の大きさがそろうように重ねて、2つの違いを検討せよ。もし、大きく異なるときはなぜかを考えてみよ。

2. ある分布を正規分布とみなしてよいかを判断するには、厳密にはコルモゴロフ・スミルノフの検定を利用する。しかし、ここでは第3回の授業の宿題で調べたデータについて、正規分布で予想される分布とどの程度離れているかを以下の手順で検討せよ。

- ① 調査したデータの標本平均、標本分散をそれぞれ母平均、母分散とした正規分布とすると、理論的には68.3%の確率変数は $\mu - \sigma \sim \mu + \sigma$ の間にはいる。自分の調べたデータのうち、何%が実際には $\mu - \sigma \sim \mu + \sigma$ の間にはいるかを数えて調べよ。
- ② さらに $\mu - 2\sigma \sim \mu + 2\sigma$, $\mu - 3\sigma \sim \mu + 3\sigma$ の間にはいるデータについても数えよ。
- ③ ①, ②の結果から、自分の調査したデータが正規分布に近いかどうかを検討せよ。

3. 第3回の授業の宿題で調べたデータについて、そのデータが正規分布で近似できると仮定した場合、第3回の宿題採点表で指定した範囲に属するデータが全体の何パーセントになるかをエクセルの NORMDIST 関数を用いて、計算せよ。

4. 次回以降の授業ではあるデータが正規分布あるいは二項分布に基づくと仮定して、統計的に推定あるいは検定を行う。次回の授業では統計的な推定について考える。統計的な推定とは、母集団についてのある数値を知るために、母集団から無作為抽出した標本からデータを集め、そこから母集団についてのある数値を推測することである。統計的な推定の例を以下にいくつかあげる。

- ① 20歳代の男女を100人、無作為抽出して、1ヶ月の携帯電話代を調べたところ、平均5000円、標準偏差500円だった。母集団(20歳代の男女すべて)の携帯電話代はいくらかを推定したい。
- ② A農場はBスーパーにトマトを納入している。Bスーパーは仕分けの手間を省くためにトマトの重さの標準偏差を1g以内にするを求めてきた。すべてのトマトの重さを測定できないので、100個を無作為抽出して標準偏差を調べたところ、0.99gだった。A農場のトマト全体の重さの標準偏差はいくらと推定できるだろうか？
- ③ C林業はD山を開発しようと考えたが、開発の利益に出費が見合うかわからない。D山の樹木すべてを調べることは不可能なので、無作為に数地点を選んで樹木の価値を算定し、D山全体の樹木の価値を推定した。

以上のような例に当てはまる事例をいくつか考えてみよう。

参考

1. 二項分布の一般式

二項分布の一般式は、 $P(x) = {}_n C_x p^x (1-p)^{n-x}$

ここで二項係数 ${}_n C_x = \frac{n!}{x!(n-x)!}$

例 さいころを10回振ったときに1の出る回数 x の確率分布は二項分布に従う。

この場合、 $n=10$, $p=\frac{1}{6}$ の二項分布になる。これを一般式で計算すると・・・

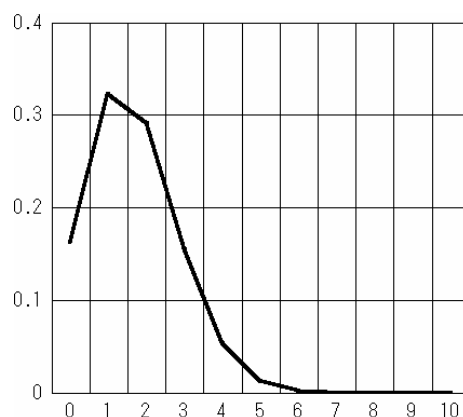
$$P(0) = {}_{10}C_0 \left(\frac{1}{6}\right)^0 \left(1 - \frac{1}{6}\right)^{10-0} = 0.162$$

$$P(1) = {}_{10}C_1 \left(\frac{1}{6}\right)^1 \left(1 - \frac{1}{6}\right)^{10-1} = 0.323$$

$$P(2) = {}_{10}C_2 \left(\frac{1}{6}\right)^2 \left(1 - \frac{1}{6}\right)^{10-2} = 0.291$$

$$P(3) = {}_{10}C_3 \left(\frac{1}{6}\right)^3 \left(1 - \frac{1}{6}\right)^{10-3} = 0.155$$

$$P(4) = {}_{10}C_4 \left(\frac{1}{6}\right)^4 \left(1 - \frac{1}{6}\right)^{10-4} = 0.054$$



以下省略

一般式を使った場合でも、エクセルで計算できる。その場合、下のように計算できる。

さいころの場合			
1の出る回	確率	一般式から計算すると・・・	エクセルの二項分布関数
0	0.161506	=COMBIN(10,0)*(1/6)^B5*(5/6)^(10-0)	=BINOMDIST(0,10,1/6,FALSE)
1	0.323011	=COMBIN(10,1)*(1/6)^B6*(5/6)^(10-1)	=BINOMDIST(1,10,1/6,FALSE)
2	0.29071	=COMBIN(10,2)*(1/6)^B7*(5/6)^(10-2)	=BINOMDIST(2,10,1/6,FALSE)
3	0.155045	=COMBIN(10,3)*(1/6)^B8*(5/6)^(10-3)	=BINOMDIST(3,10,1/6,FALSE)
4	0.054266	=COMBIN(10,4)*(1/6)^B9*(5/6)^(10-4)	=BINOMDIST(4,10,1/6,FALSE)
5	0.013024	=COMBIN(10,5)*(1/6)^B10*(5/6)^(10-5)	=BINOMDIST(5,10,1/6,FALSE)
6	0.002171	=COMBIN(10,6)*(1/6)^B11*(5/6)^(10-6)	=BINOMDIST(6,10,1/6,FALSE)
7	0.000248	=COMBIN(10,7)*(1/6)^B12*(5/6)^(10-7)	=BINOMDIST(7,10,1/6,FALSE)
8	1.86E-05	=COMBIN(10,8)*(1/6)^B13*(5/6)^(10-8)	=BINOMDIST(8,10,1/6,FALSE)
9	8.27E-07	=COMBIN(10,9)*(1/6)^B14*(5/6)^(10-9)	=BINOMDIST(9,10,1/6,FALSE)
10	1.65E-08	=COMBIN(10,10)*(1/6)^B15*(5/6)^(10-10)	=BINOMDIST(10,10,1/6,FALSE)

2. ポアソン分布の一般式

ポアソン分布の一般式：母平均 μ が与えられたとき、事象が x 回出現する確率は

$$P(x) = \frac{\mu^x e^{-\mu}}{x!}$$

e は自然対数の底で、 $e = 2.7182818...$

例 ある島では毎年、何千羽ものヒナが生まれる。毎年平均 0.5 羽の出現率で黄金色の羽をもつヒナが生まれるという。

$$P(x) = \frac{\mu^x e^{-\mu}}{x!} = \frac{0.5^x e^{-0.5}}{x!}$$

$$x = 0 \text{ のとき } P(0) = \frac{0.5^0 e^{-0.5}}{0!} = e^{-0.5} = 0.607$$

$$x = 2 \text{ のとき } P(2) = \frac{0.5^2 e^{-0.5}}{2!} = \frac{0.5^2 e^{-0.5}}{2 \times 1} = 0.0758$$

黄金色の羽をもつヒナの数	確率	一般式による計算	エクセルでの式
0	0.606531	$=0.5^0 * \text{EXP}(-0.5) / \text{FACT}(0)$	$=\text{POISSON}(0,0.5,\text{FALSE})$
1	0.303265	$=0.5^1 * \text{EXP}(-0.5) / \text{FACT}(1)$	$=\text{POISSON}(1,0.5,\text{FALSE})$
2	0.075816	$=0.5^2 * \text{EXP}(-0.5) / \text{FACT}(2)$	$=\text{POISSON}(2,0.5,\text{FALSE})$

3. 二項分布のポアソン分布による近似する

二項分布のうち $n > 10$, $p < 0.1$ のとき、とくに n が 50 以上、 p が 0.1 以下、 $np = \mu$ が 0~10 のときは、二項分布をポアソン分布でよく近似できる。二項分布は n が増えると計算が大変であり、ポアソン分布に近似すれば、 n は計算上、必要なくなる。

例 ある農園で収穫したトマトでは空洞果の割合が 0.1% である。100 個を箱詰めにする時、空洞果が箱にある個数はどのような確率分布を示すか？

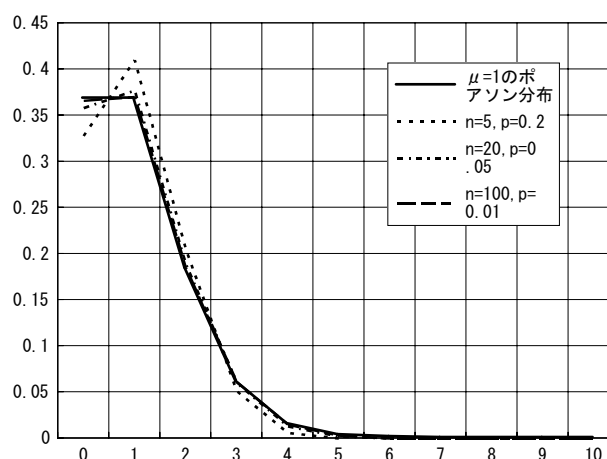
これを二項分布で解こうとすると 100 乗を計算することになり、電卓では面倒である。さらに n と x が大きくなるとエクセルでも計算できないときもある。

平均は二項分布の場合、 np であるから、 $\mu = np$ としてポアソン分布で近似すると簡単である。

空洞果	二項分布	エクセルでの二項分布の計算	ポアソン分布での近似	エクセルでのポアソン分布の計算
0	0.904792	$=\text{BINOMDIST}(0,100,0.001,\text{FALSE})$	0.904837418	$=\text{POISSON}(0,0.1,\text{FALSE})$
1	0.09057	$=\text{BINOMDIST}(1,100,0.001,\text{FALSE})$	0.090483742	$=\text{POISSON}(1,0.1,\text{FALSE})$
2	0.004488	$=\text{BINOMDIST}(2,100,0.001,\text{FALSE})$	0.004524187	$=\text{POISSON}(2,0.1,\text{FALSE})$

平均が 1 である種々の二項分布とポアソン分布を比較すると右のグラフのようになる。

$n = 5, p = 0.2$ の二項分布ではポアソン分布で近似できない。しかし、 $n = 20, p = 0.05$ の二項分布は、ポアソン分布でかなりよく近似でき、 $n = 100, p = 0.01$ の二項分布ではほとんど一致する。

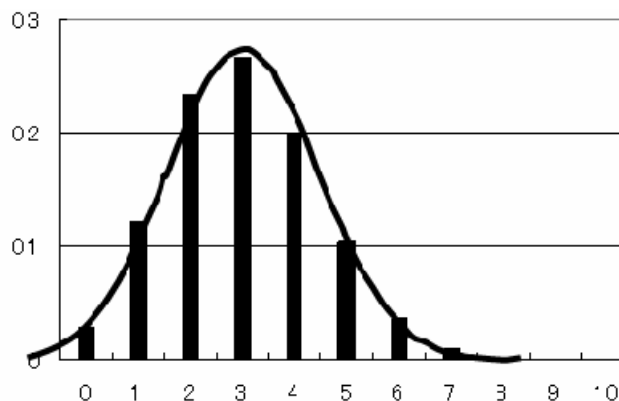


4. 二項分布の正規分布への近似

二項分布はある条件を満たせば正規分布に近似できる。

二項分布では平均は np ，分散は $np(1-p)$ である。 np が 3 以上であれば，この二項分布を $N(np, np(1-p))$ の正規分布で近似でき，5 以上ならよく近似できる。

正規分布は連続分布であり，二項分布は離散分布であるから，例えば二項分布で $x=5$ となる確率を正規分布で求めるには， $4.5 < x < 5.5$ の確率を求めたらよい。



二項分布 ($n=10, p=0.3$) の正規分布への近似

例：ジョーカーを抜いたトランプ 1 組から 1 枚引く試行を 10 回繰り返す。赤（ハート，クラブ）を何枚引くか。 $n=10, p=0.5$ の二項分布となる。

出現数	二項分布	エクセルでの計算式	正規分布による近似	エクセルでの計算式
0	0.0010	=BINOMDIST(0,10,0.5,FALSE)	0.0020	=NORMDIST(0.5,5,SQRT(2.5),TRUE)-NORMDIST(-0.5,5,SQRT(2.5),TRUE)
1	0.0098	=BINOMDIST(1,10,0.5,FALSE)	0.0112	=NORMDIST(1.5,5,SQRT(2.5),TRUE)-NORMDIST(0.5,5,SQRT(2.5),TRUE)
2	0.0439	=BINOMDIST(2,10,0.5,FALSE)	0.0435	=NORMDIST(2.5,5,SQRT(2.5),TRUE)-NORMDIST(1.5,5,SQRT(2.5),TRUE)
3	0.1172	=BINOMDIST(3,10,0.5,FALSE)	0.1145	=NORMDIST(3.5,5,SQRT(2.5),TRUE)-NORMDIST(2.5,5,SQRT(2.5),TRUE)
4	0.2051	=BINOMDIST(4,10,0.5,FALSE)	0.2045	=NORMDIST(4.5,5,SQRT(2.5),TRUE)-NORMDIST(3.5,5,SQRT(2.5),TRUE)
5	0.2461	=BINOMDIST(5,10,0.5,FALSE)	0.2482	=NORMDIST(5.5,5,SQRT(2.5),TRUE)-NORMDIST(4.5,5,SQRT(2.5),TRUE)
6	0.2051	=BINOMDIST(6,10,0.5,FALSE)	0.2045	=NORMDIST(6.5,5,SQRT(2.5),TRUE)-NORMDIST(5.5,5,SQRT(2.5),TRUE)
7	0.1172	=BINOMDIST(7,10,0.5,FALSE)	0.1145	=NORMDIST(7.5,5,SQRT(2.5),TRUE)-NORMDIST(6.5,5,SQRT(2.5),TRUE)
8	0.0439	=BINOMDIST(8,10,0.5,FALSE)	0.0435	=NORMDIST(8.5,5,SQRT(2.5),TRUE)-NORMDIST(7.5,5,SQRT(2.5),TRUE)
9	0.0098	=BINOMDIST(9,10,0.5,FALSE)	0.0112	=NORMDIST(9.5,5,SQRT(2.5),TRUE)-NORMDIST(8.5,5,SQRT(2.5),TRUE)
10	0.0010	=BINOMDIST(10,10,0.5,FALSE)	0.0020	=NORMDIST(10.5,5,SQRT(2.5),TRUE)-NORMDIST(9.5,5,SQRT(2.5),TRUE)